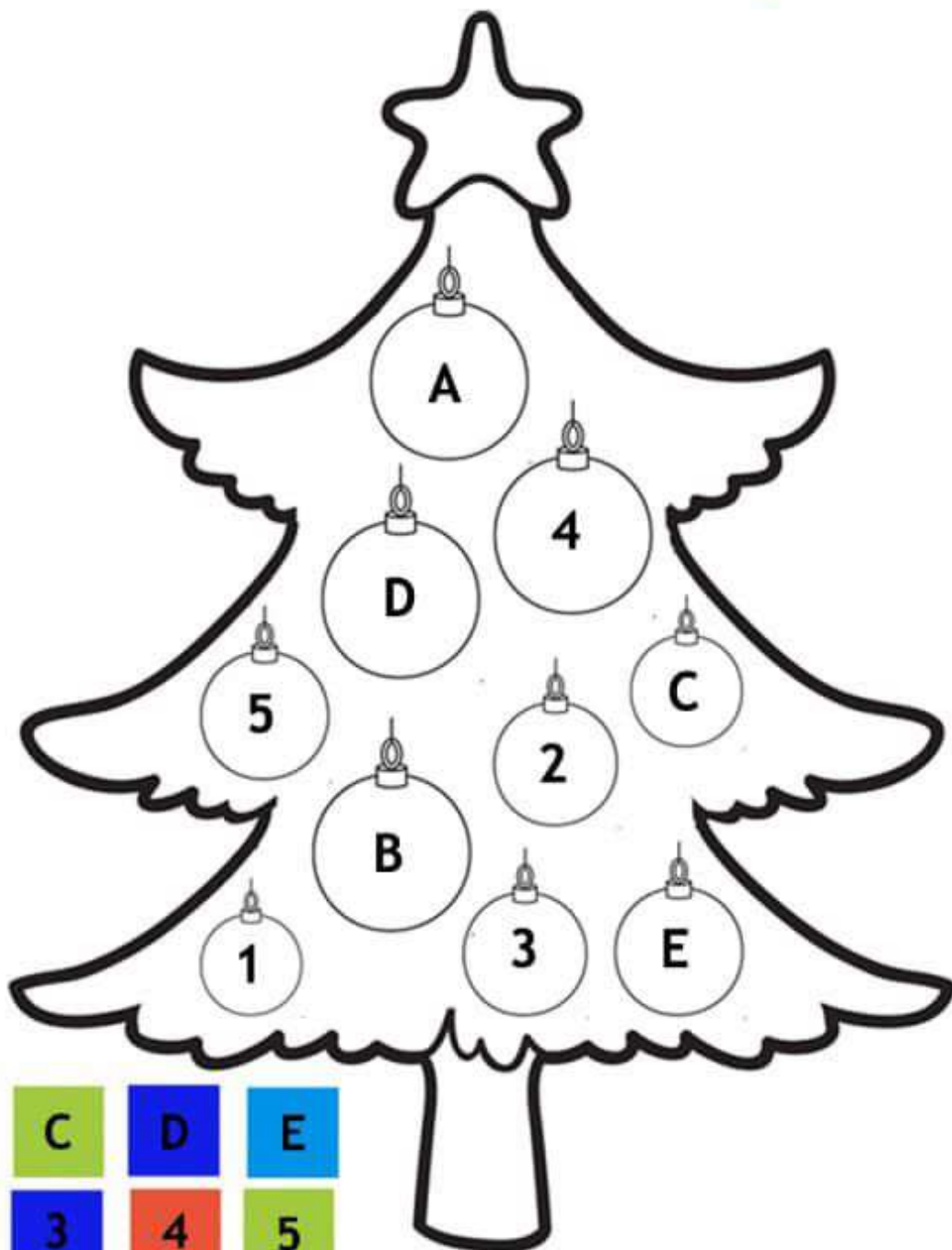


Fichas de Navidad con letras y números



¿Y si me disculpo? Infantil de 4 años. Ficha nº2.

Para los que dispongáis de impresora. Ordenar cronológicamente la historia que aparece en el lado derecho, unir con flechas y colorear. Los marcos se pueden colorear emparejados.



- Rodea el número mayor.

1 2

8 7

4 5

5 4

6 5

1 3

8 5

4 2

5 2

8 3

4 3

6 4

3 2

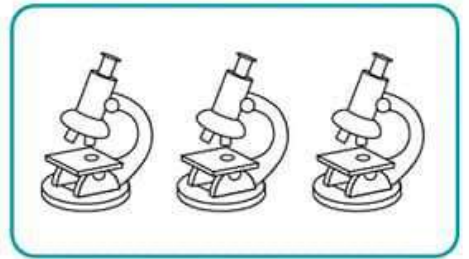
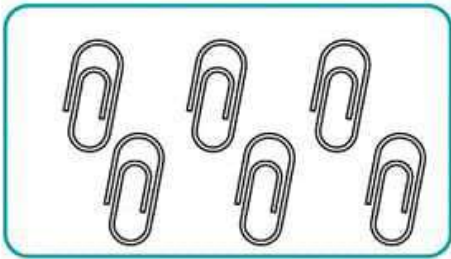
9 0

8 7

Nombre _____

Fecha _____

¿Cuántos hay? Une los dibujos con su número.



1

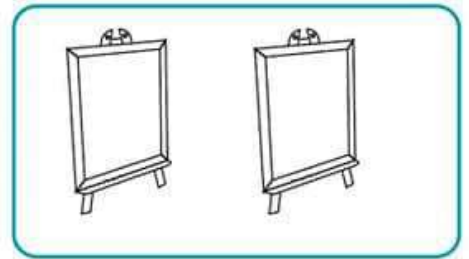


2

3

4

5

6



**Resuelvo.**

Tomás tiene **25** lápices. Le da **12** a Manuel.
¿Cuántos lápices le quedan a Tomás?

Planteamiento: _____

Respuesta: _____

(Forma vertical)

En un árbol hay **34** ciruelas. **14** ciruelas se caen.
¿Cuántas ciruelas quedan en el árbol?

Planteamiento: _____

Respuesta: _____

(Forma vertical)

Calculo.

a)
$$\begin{array}{r} 38 \\ - 16 \\ \hline \end{array}$$

b)
$$\begin{array}{r} 93 \\ - 11 \\ \hline \end{array}$$

c)
$$\begin{array}{r} 78 \\ - 21 \\ \hline \end{array}$$

d)
$$\begin{array}{r} 28 \\ - 15 \\ \hline \end{array}$$

e)
$$\begin{array}{r} 47 \\ - 30 \\ \hline \end{array}$$

f)
$$\begin{array}{r} 56 \\ - 20 \\ \hline \end{array}$$

g)
$$\begin{array}{r} 78 \\ - 18 \\ \hline \end{array}$$

h)
$$\begin{array}{r} 82 \\ - 22 \\ \hline \end{array}$$

i)
$$\begin{array}{r} 48 \\ - 41 \\ \hline \end{array}$$

j)
$$\begin{array}{r} 92 \\ - 90 \\ \hline \end{array}$$

k)
$$\begin{array}{r} 38 \\ - 5 \\ \hline \end{array}$$

l)
$$\begin{array}{r} 87 \\ - 2 \\ \hline \end{array}$$

Calculo.

a) $49 + 26$ b) $39 - 32$ c) $67 - 37$